

# DEMO DE PREGUNTAS VARIAS DEL MÓDULO EXCEL INTERMEDIO

Lección 16 de 16

Curso de  
Excel  
Intermedio

10 Preguntas  
x 16 lecciones

Material gráfico de nuestras  
evaluaciones virtuales


*Cada pregunta se acompaña de  
una imagen que ilustra y facilita  
su comprensión.*

*A la vez, se retroalimenta con otra  
imagen que aclara las equivocaciones  
del estudiante, complementando la  
explicación del video.*



Profundización  
de medio a avanzado

Material preparatorio para  
examen de certificación  
"Microsoft Excel Expert"



VÍDEOS



ACTIVIDADES  
PRÁCTICAS



EVALUACIONES

# Pregunta 1 de 10

Basado en la **explicación del video**, se dejó claro que ...



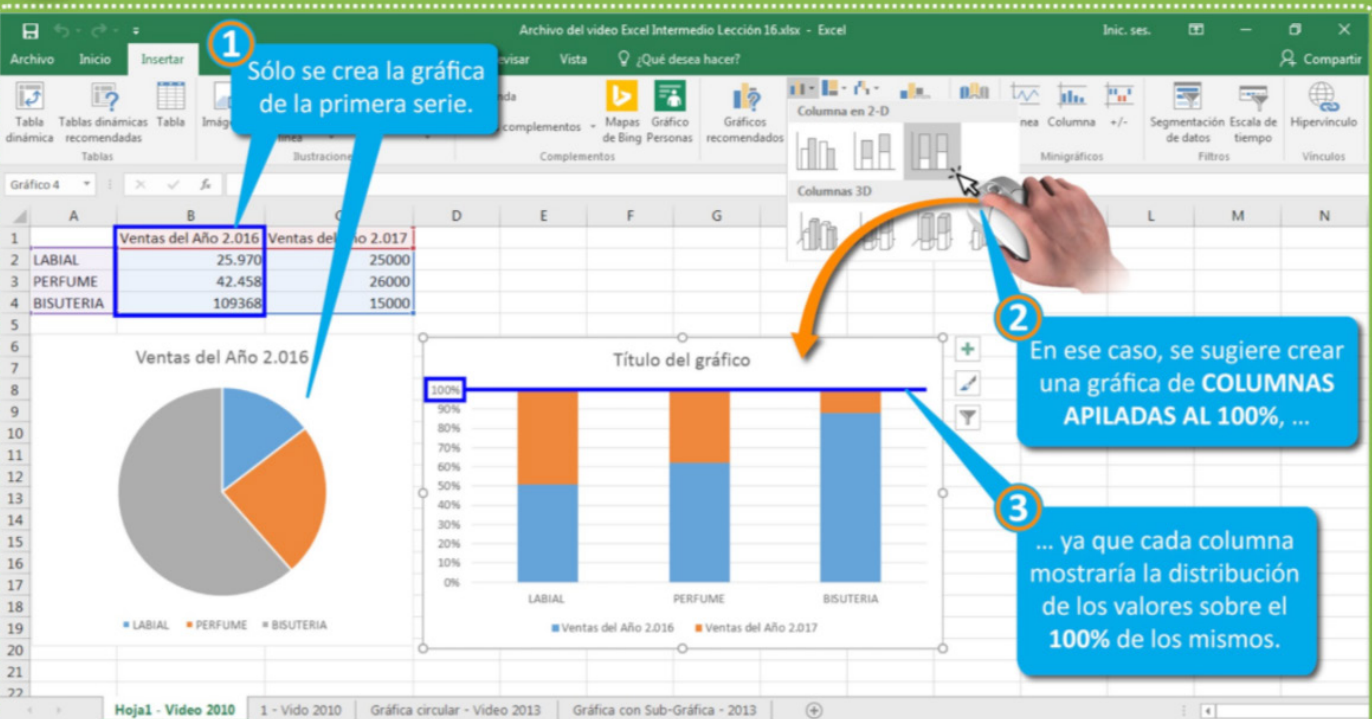
1 ... al crear una **GRÁFICA CIRCULAR** a partir de un rango de celdas con dos series, ...

2 ... se crea una gráfica con dos círculos, cada uno representando a cada serie.

HAGA CLIC EN LA IMAGEN PARA AMPLIARLA

Verdadero  Falso

**Enviar**



✓ La respuesta correcta es

1 Sólo se crea la gráfica de la primera serie.

2 En ese caso, se sugiere crear una gráfica de **COLUMNAS APILADAS AL 100%**, ...

3 ... ya que cada columna mostraría la distribución de los valores sobre el **100%** de los mismos.

**Continuar**

## Pregunta 2 de 10

En el video se apreció que ...

1 ... para desplegar el panel de comandos del **FORMATO DE ETIQUETA DE DATOS**, ...

2 ... se requirió habilitar las etiquetas de datos, ...

3 ... seleccionar una de las etiquetas, ...

4 ... y por último hacer clic en el comando **APLICAR FORMATO A LA SELECCIÓN** de la cinta **FORMATO**.

**HAGA CLIC EN LA IMAGEN PARA AMPLIARLA**

Verdadero  Falso

**Enviar**



La respuesta correcta es

1 ... sólo requiere seleccionar la parte de la gráfica que quiere editar, ...

2 ... para que al hacer clic en el comando **APLICAR FORMATO A LA SELECCIÓN**, ...

3 ... se despliegue el menú que hace referencia a la parte seleccionada.

**Continuar**

## Pregunta 3 de 10

Según la **explicación del video**, se tiene que ...

1 ... cuando se configura la visualización de más de un valor en una gráfica, ...

2 éstos se muestran separados por el carácter "punto y coma" (;), sin poder hacer ninguna modificación a esa presentación de los valores.

HAGA CLIC EN LA IMAGEN PARA AMPLIARLA

Verdadero  Falso

Enviar



La respuesta correcta es

1 ... con la opción **NUEVA LÍNEA** del área de **FORMATOS DE ETIQUETA**, ...

2 ... los distintos valores mostrados se visualizan en diferentes filas.

Continuar

## Pregunta 4 de 10

A partir de lo aprendido en esta lección, ...



2 ... es que se pueden graficar rangos de datos con dos SERIES DE VALORES, ...

1 se pudo ver que la principal utilidad de un GRÁFICO CIRCULAR CON SUBGRÁFICO ...

3 ... en donde la primera serie se muestra en el gráfico principal, ...

4 ... y la segunda serie en el SUBGRÁFICO.

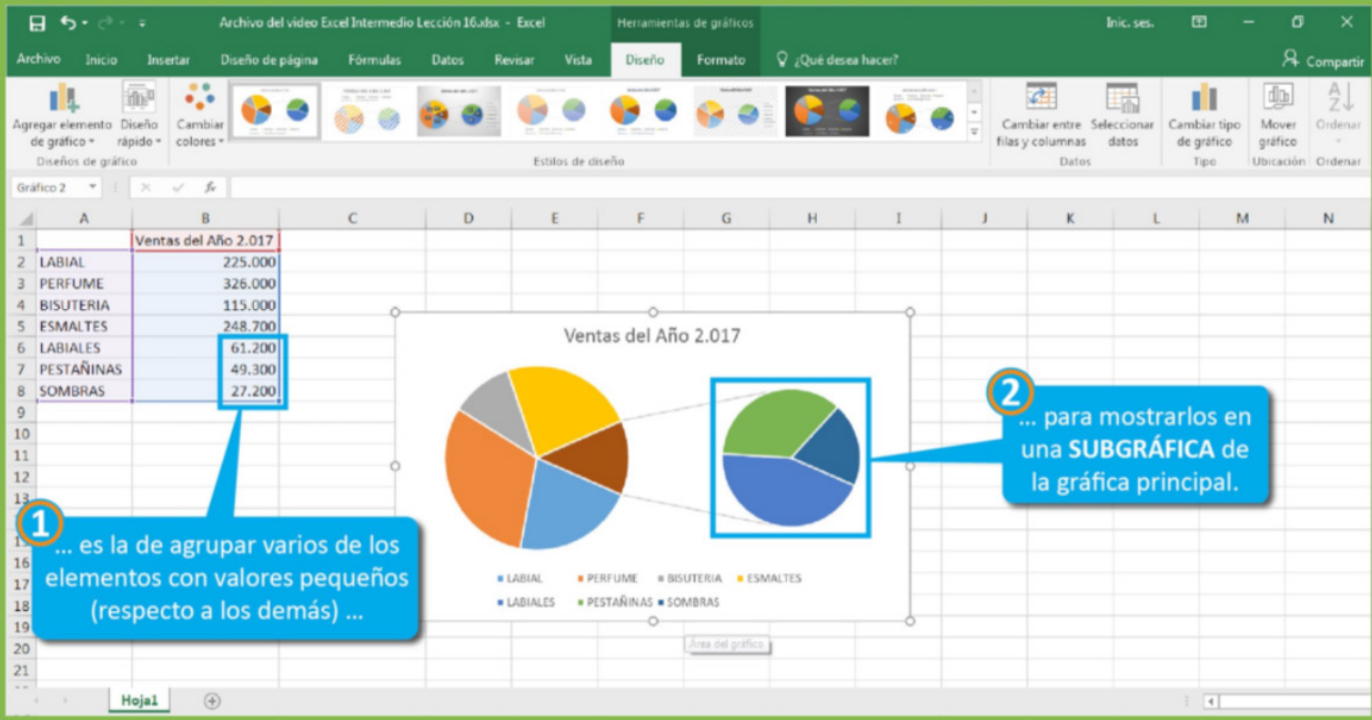
HAGA CLIC EN LA IMAGEN PARA AMPLIARLA

Verdadero  Falso

[Enviar](#)



La respuesta correcta es



1 ... es la de agrupar varios de los elementos con valores pequeños (respecto a los demás) ...

2 ... para mostrarlos en una SUBGRÁFICA de la gráfica principal.

[Continuar](#)

## Pregunta 5 de 10

A partir de lo expuesto en el video, se puede ver que ...

1 los elementos agrupados en la creación de una SUBGRÁFICA CIRCULAR, ...

2 se ocultan en la gráfica original, ...

3 mostrándose sólo los elementos no agrupados.

HAGA CLIC EN LA IMAGEN PARA AMPLIARLA

Verdadero  Falso

Enviar



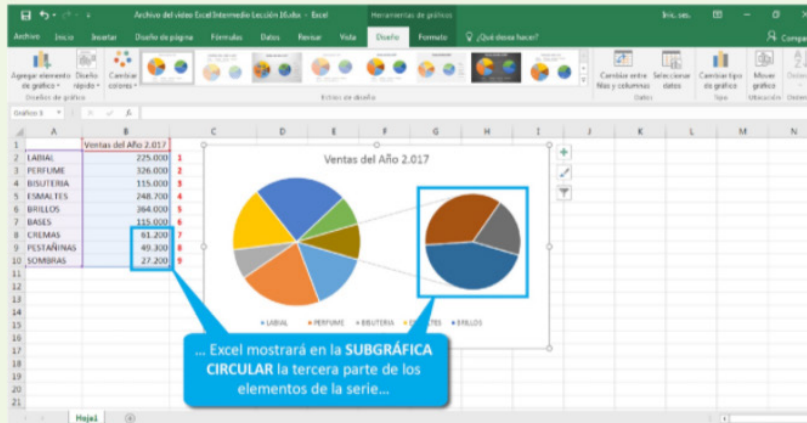
La respuesta correcta es

... y se visualizan en la gráfica principal, como una sola parte con un único color en la gráfica circular principal.

Continuar

## Pregunta 6 de 10

En la explicación del video se mencionó que, por defecto, ...



HAGA CLIC EN LA IMAGEN PARA AMPLIARLA

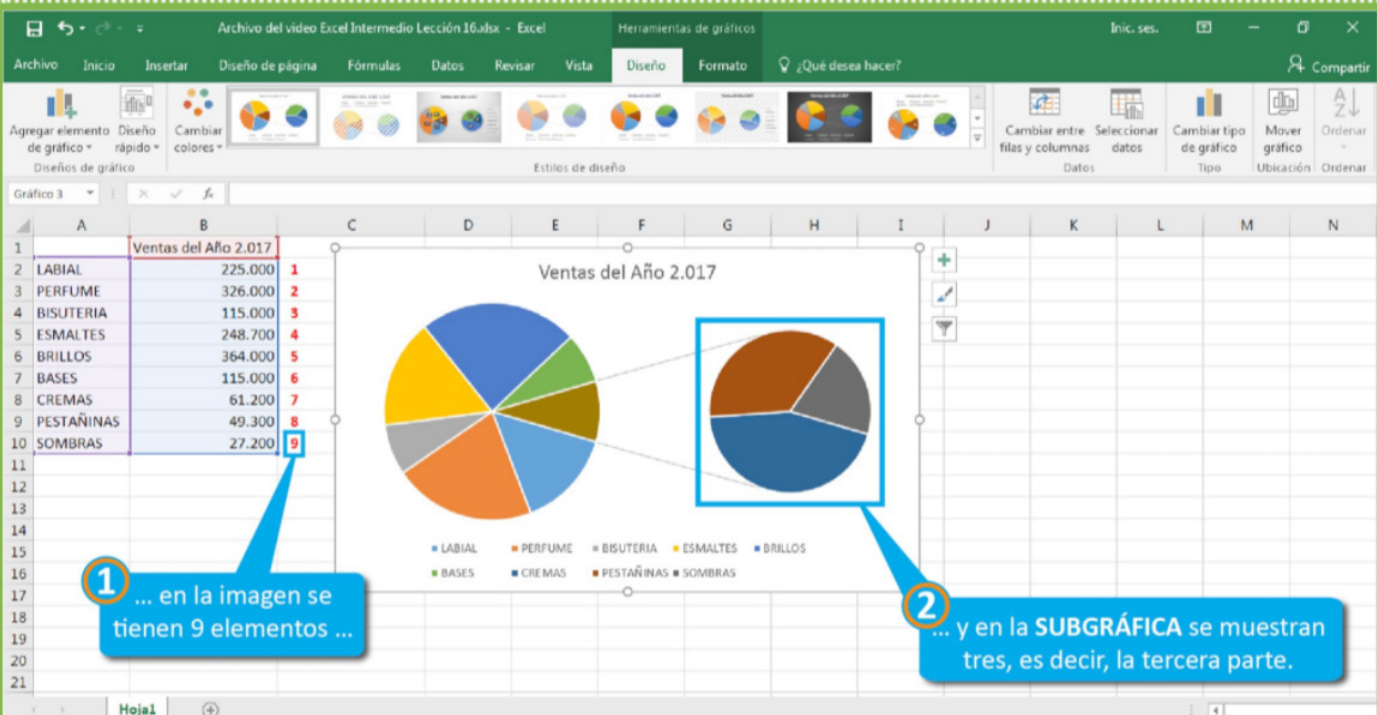


Verdadero  Falso

Enviar



La respuesta correcta es



Continuar

## Pregunta 7 de 10

Basado en el desarrollo de la **actividad práctica** de esta lección, indique si ...

4 ... y no los productos 9 a 14 como se pedía en la imagen.

1 ... al momento de crear la gráfica con la SUBGRÁFICA, ...

2 ... esta última sólo representaba los últimos 5 productos, ...

3 ... es decir, los productos 10 a 14 ...

HAGA CLIC EN LA IMAGEN PARA AMPLIARLA

Verdadero  Falso

Enviar



La respuesta correcta es

1 ... se tendría 14 ítems, dividido en tres (3), ...

2 ... lo cual da como resultado 4,66; ...

3 ... valor que por aproximación se acerca a los cinco (5) ítems mostrados.

14 | 3  
20 | 4,66  
20

Continuar



## Pregunta 8 de 10

Basado en todo lo expuesto en esta lección y en la **actividad práctica**, se puede afirmar que ...

1 ... los items mostrados en la SUBGRÁFICA, ...

2 ... serán siempre los de menor valor de la lista.

HAGA CLIC EN LA IMAGEN PARA AMPLIARLA

Verdadero  Falso

Enviar



La respuesta correcta es

4 Lo anterior indica que se agrupan los de la parte inferior y no los menores.

3 ... y se dejó el valor de 190 por fuera de la SUBGRÁFICA.


1 ... al asignar las etiquetas se puede ver que ...

2 ... se incluyó el valor más alto de 610 ...

Continuar

## Pregunta 9 de 10

Según lo estudiado en esta lección, se puede deducir que ...



2 se requiere obligatoriamente ordenar los datos de forma DESCENDENTE.

1 para mostrar realmente los valores menores en una SUBGRÁFICA ...

HAGA CLIC EN LA IMAGEN PARA AMPLIARLA

Verdadero  Falso

**Enviar**



La respuesta correcta es



3 Lo que nos llevó a concluir que la SUBGRÁFICA agrupa los ítems de la parte inferior y no a los menores.

2 ... y se dejó el valor de 190 por fuera de la SUBGRÁFICA.

1 ... se incluyó el valor más alto de 610 ...

**Continuar**

## Pregunta 10 de 10

Basado en el desarrollo de la **actividad práctica** de esta lección, se tiene que, ...



**HAGA CLIC EN LA IMAGEN PARA AMPLIARLA**

1 ... para que la SUBGRÁFICA mostrara los seis (6) elementos requeridos en la imagen ...

2 ... y no los cinco (5) que la gráfica muestra por defecto, ...

3 ... se debió registrar el valor de seis (6) en esta casilla.

Verdadero  Falso

**Enviar**



La respuesta correcta es |



2 ... hacer clic en el botón **APLICAR FORMATO A LA SELECCIÓN** de la cinta **FORMATO**...

1 Debe seleccionar la porción de la gráfica que representa los cinco (5) elementos de la SUBGRÁFICA, ...

3 ... y modificar por seis (6) el valor de la casilla **VALORES EN SEGUNDO TRAZADO**.

**Continuar**

Material educativo para...

- Su capacitación personal
- Su colegio
- Su universidad

